

KONKURS GEOGRAFICZNY „CZY ZNASZ MAPE ŚWIATA?”

1. Rozpoznaj zaznaczone na poniższych mapach kraje świata.

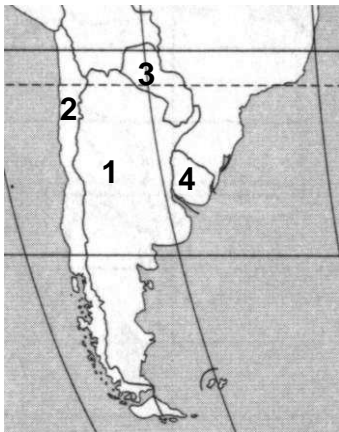
a)

1 -

2 -

3 -

4 -



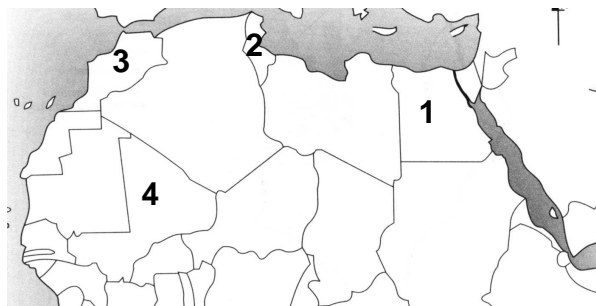
b)

1 -

2 -

3 -

4 -



2. Poniższy wycinek mapy obrazuje region Azji Południowo – Wschodniej. Rozpoznaj zaznaczone na nim rzeki.

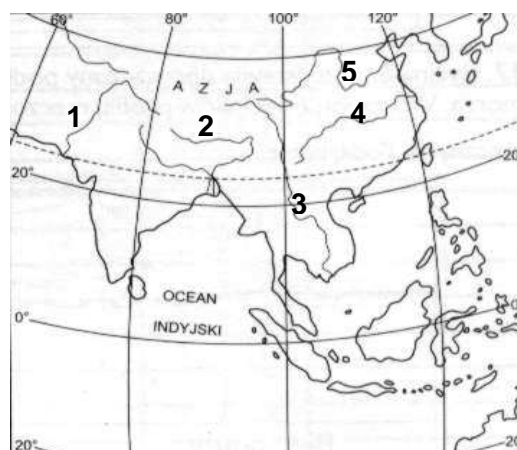
1 -

2 -

3 -

4 -

5 -



3. Z mapy Morza Bałtyckiego odczytaj elementy linii brzegowej, wybierając nazwy z poniższego zestawienia.

*Bornholm, Botnicka, Skagerrak, Fińska, Gotlandia
Kattegat, Zelandia, Ryska, Alandzkie*

Zatoki:

1 -

2 -

3 -

Wyspy:

4 -

5 -

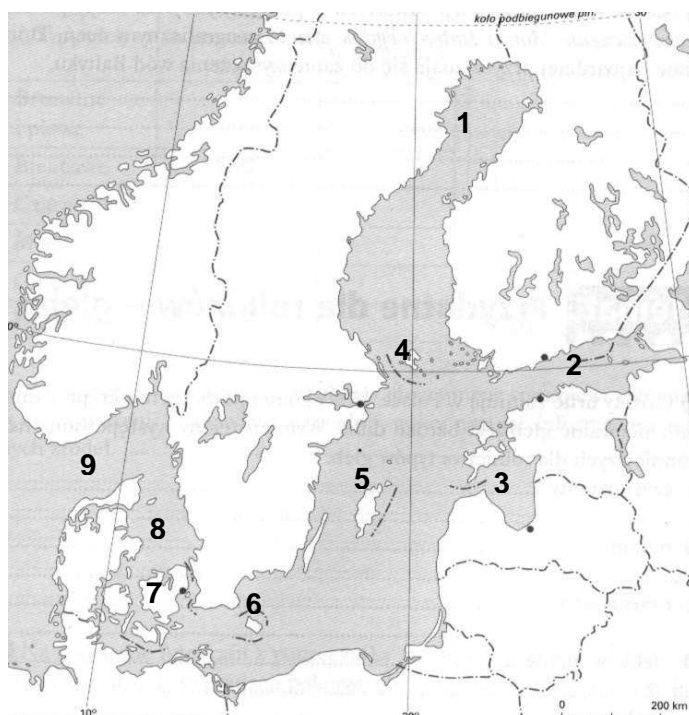
6 -

7 -

Cieśniny:

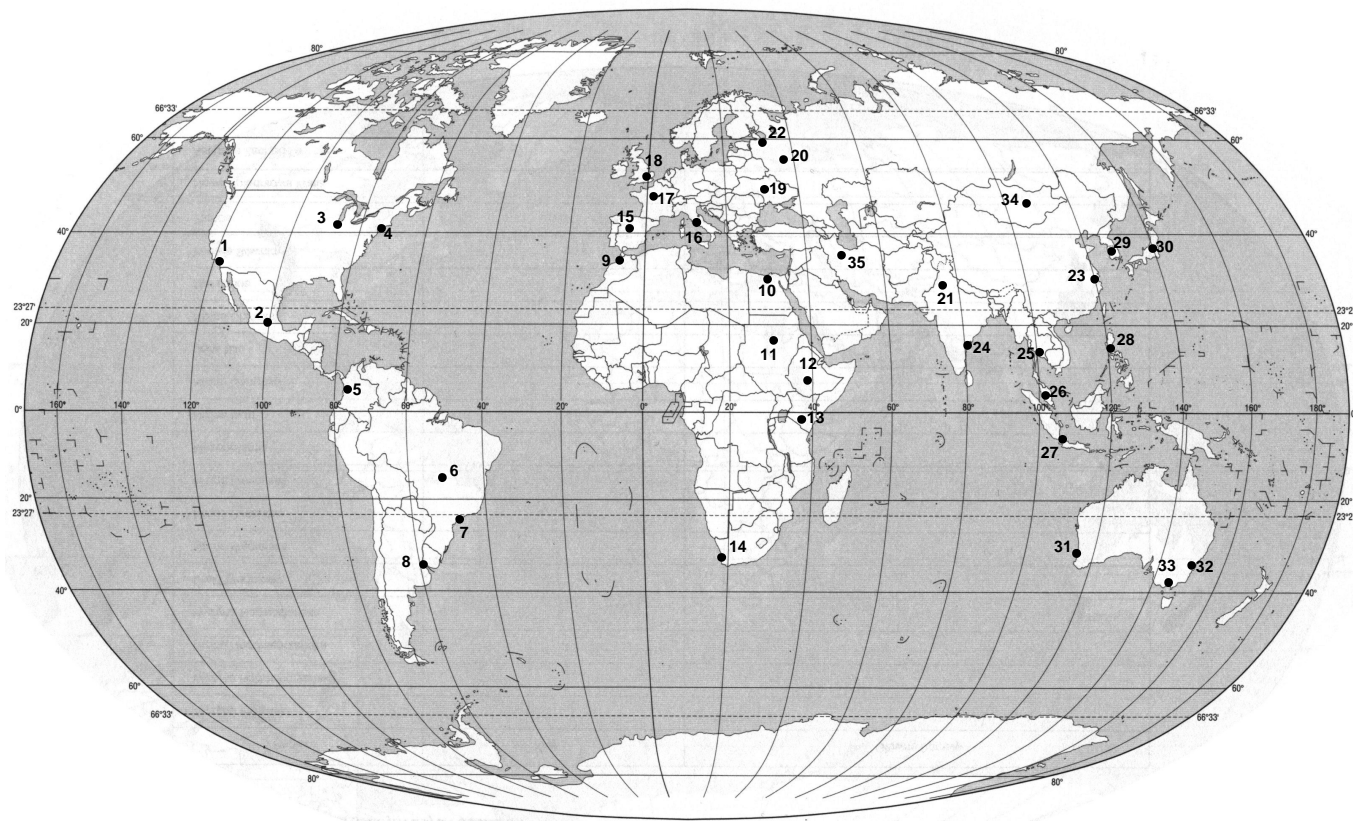
8 -

9 -



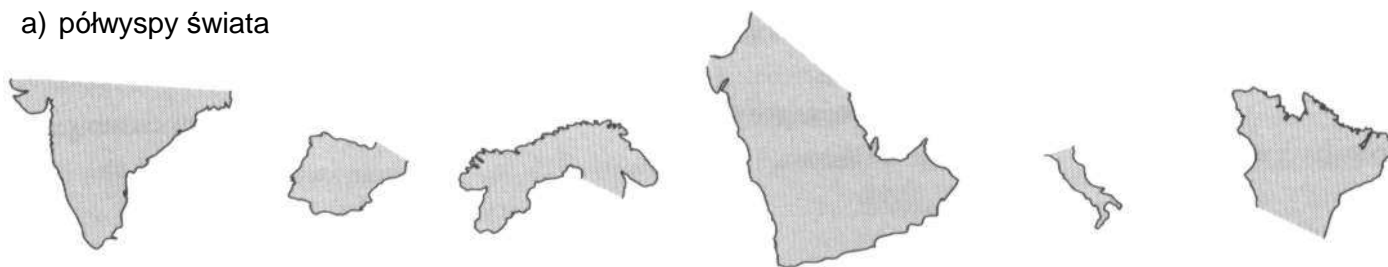
4. Poniżej wymienionym nazwom miast świata przyporządkuj odpowiednią cyfrę z mapy.

..... <i>Seu</i> <i>Kair</i> <i>Buenos Aires</i> <i>Londyn</i>
..... <i>Moskwa</i> <i>Sao Paulo</i> <i>Szanghaj</i> <i>Sydney</i>
..... <i>Manila</i> <i>Delhi</i> <i>Nowy Jork</i> <i>Adis Abeba</i>
..... <i>Tokio</i> <i>Madryt</i> <i>Meksyk</i> <i>Dżakarta</i>
..... <i>Bogota</i> <i>Bangkok</i> <i>Kijów</i>	



5. Rozpoznaj na podstawie poniższych wycinków:

a) półwyspy świata



.....

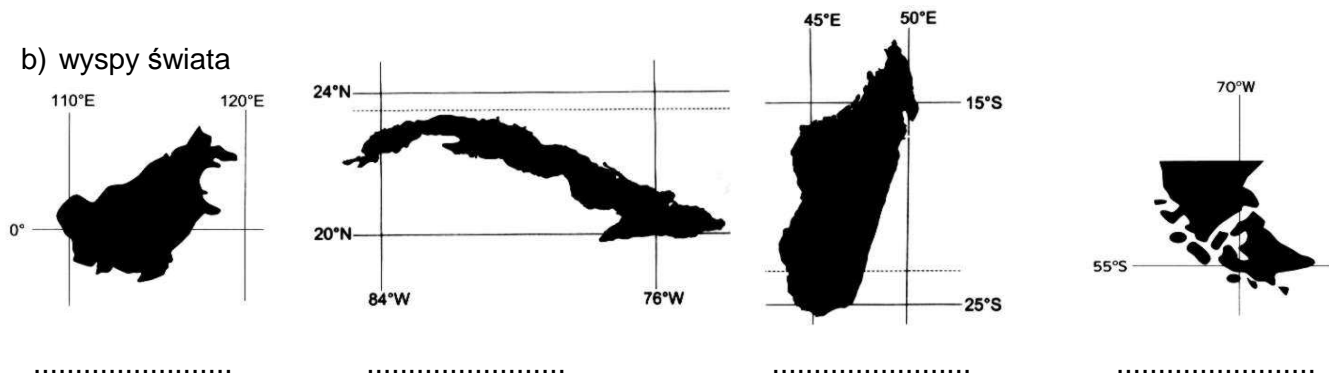


.....

.....

.....

b) wyspy świata



c) cieśniny świata



6. Z podanych poniżej nazw wybierz te, które pasują do przedstawionych poniżej konturów

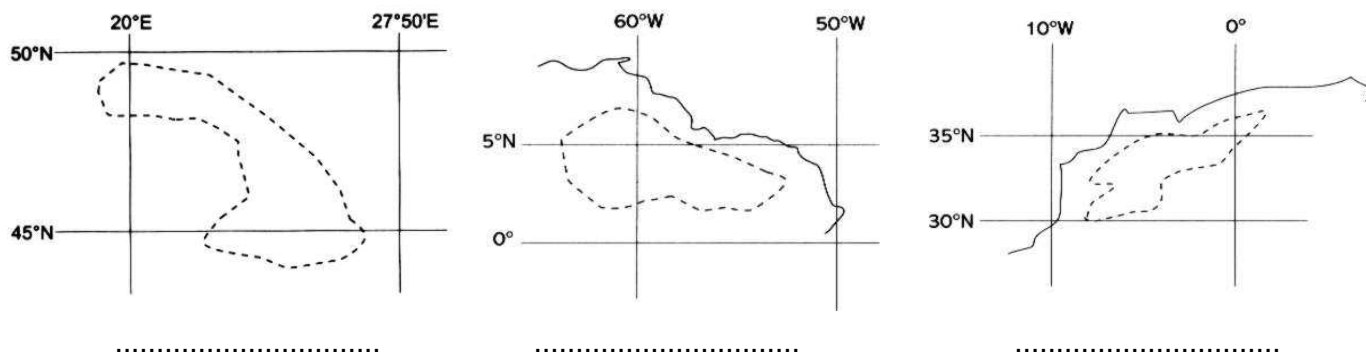
a) jezior świata

Tanganika, Górne, Wiktorii, Onega, Malawi, Czad, Bajkał, Aralskie, Bałchasz, Śniardwy, Michigan, Ładoga



b) krain geograficznych świata

Góry Atlas, Pireneje, Karpaty, Nizina Orinoko, Wyżyna Gujańska, Nizina Gangesu, Sudety, Apeniny, Wyżyna Meksykańska, Góry Smocze, Wyżyna Abisyńska, Nizina Francuska

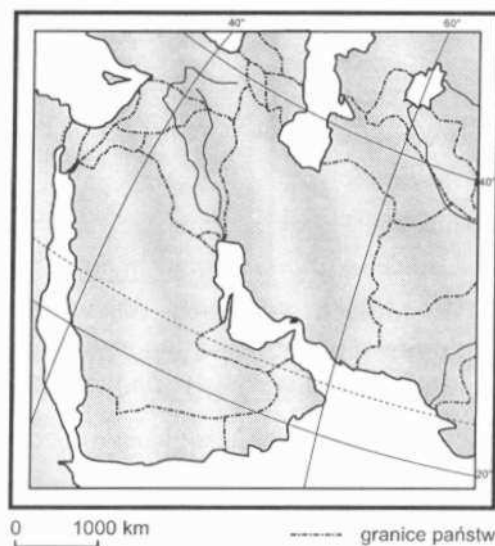


7. Wpisz w odpowiednie miejsca nazwy jezior tworzących system Wielkich Jezior Ameryki Północnej.



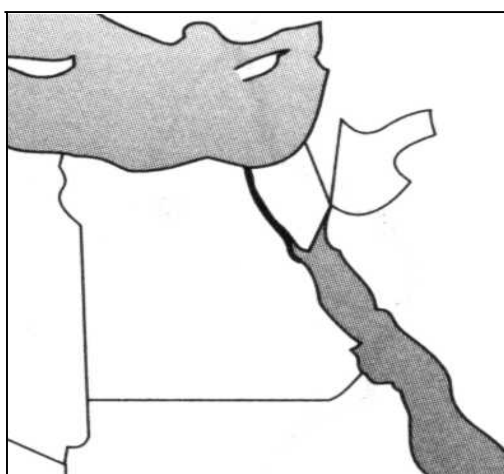
8. Na mapie politycznej Azji Południowo – Zachodniej zaznacz za pomocą cyfr następujące państwa:

- 1 - Arabia Saudyjska
- 2 – Jemen
- 3 – Irak
- 4 – Pakistan
- 5 – Turkmenistan
- 6 – Syria
- 7 – Izrael



9. Na poniższej mapie zaznacz następujące obiekty geograficzne:

- Nil
- Półwysep Synaj
- Kanał Sueski
- Pustynia Libijska
- Aleksandria



10. Pustyniom świata przyporządkuj cyfrę, którą jest ona zaznaczona na mapie.

Wielka Pustynia Wiktorii

Pustynia Namib

Wielka Pustynia Słona

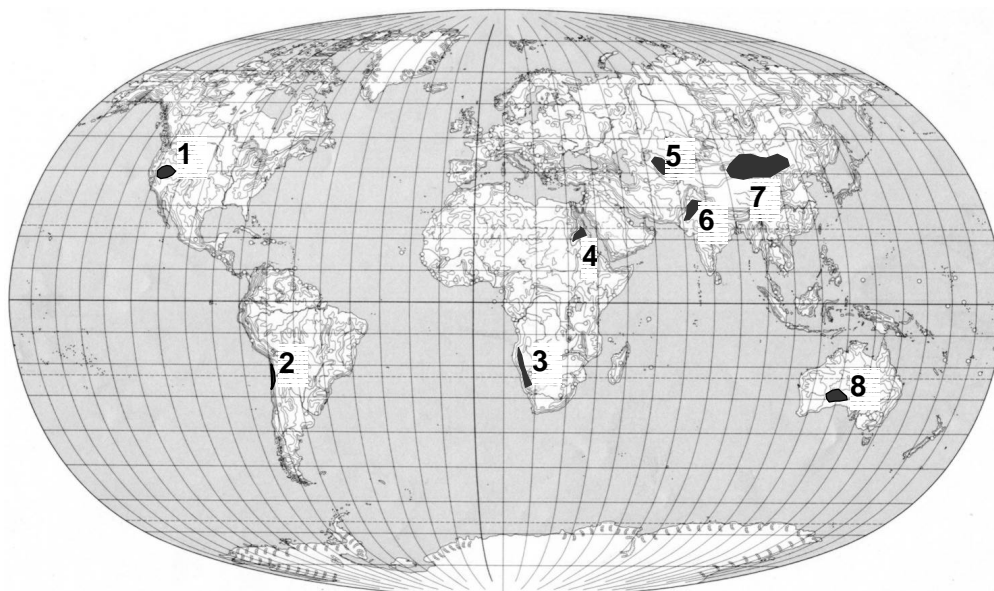
Pustynia Thar

Pustynia Gobi

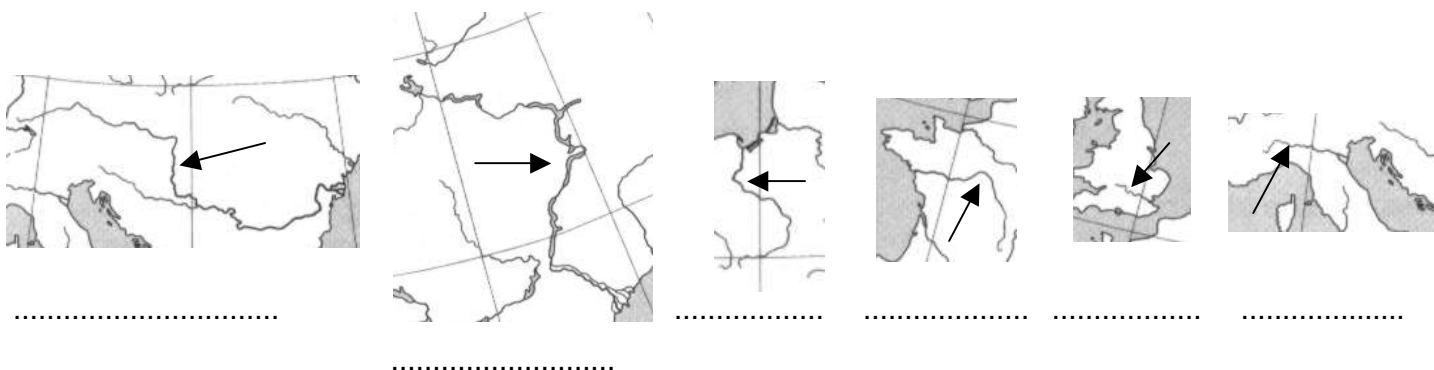
Pustynia Nubijska

Pustynia Atacama

Pustynia Kyzyl – Kum



11. Podpisz zaznaczone na wycinkach mapy Europy rzeki.



12. Na mapie fizycznej Polski zaznacz:

krainy geograficzne: Góry Świętokrzyskie
Tatry
Poj. Pomorskie
Nizinę Śląską
Wyżynę Lubelską
Nizinę Podlaską
Żuławy Wiślane

rzeki i jeziora: Warta
Wieprz
Bóbr
Śniardwy
Dunajec
Biebrza
Gopło
Noteć

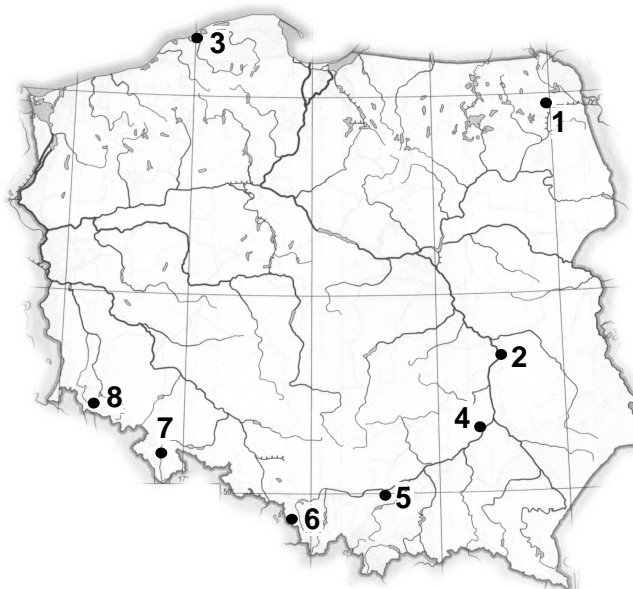
parki narodowe: Słowiński
Karkonoski
Kampinoski
Białowiecki



13. Odgadnij, jakie miasta oznaczają poniższe cyfry. Nazwy miast wybierz z poniższego zestawienia.

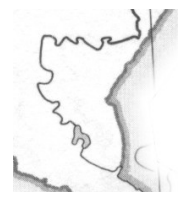
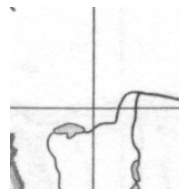
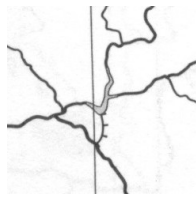
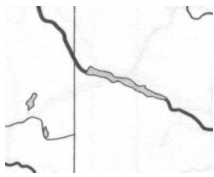
*Nałęczów, Mikołajki, Sandomierz, Cieszyń, Władysławowo, Kłodzko, Malbork, Ustka,
Kudowa Zdrój, Krynica, Szklarska Poręba, Augustów, Kazimierz Dolny, Wieliczka*

- 1
- 2
- 3
- 4
- 5
- 6
- 7
- 8



14. Na podstawie wycinków mapy Polski rozpoznaj sztuczne zbiorniki naszego kraju, wybierając nazwy z poniższych.

Jeziora: Otmuchowskie, Solińskie, Włocławskie, Sulejowskie, Zegrzyńskie, Goczałkowickie



.....

.....

.....

.....

.....

.....

Opracowała:

Nauczyciel geografii
Gimnazjum nr 4 w Gdyni
Dorota Giełdzik